

# ТИТУЛЬНЫЙ ЛИСТ

Всероссийская олимпиада школьников

Школьный этап

Заполняется ПЕЧАТНЫМИ БУКВАМИ чернилами черного или синего цвета по образцам:

А	Б	В	Г	Д	Е	Ж	З	И	К	Л	М	Н	О	П	Р	С	Т	У	Ф	Х	Ц	Ч	Ш	Щ	Ъ	Ы	Ь	Э	Ю	Я	@	8	9	,
А	В	С	Д	Е	Ф	Г	Н	І	Ј	К	Л	М	Н	О	Р	Q	R	S	T	U	V	W	X	Y	Z	1	2	3	4	5	6	7	0	.

ПРЕДМЕТ

ИСТОРИЯ

КЛАСС

ДАТА

02.10.2024

ШИФР УЧАСТНИКА

5 0 0 1

ФАМИЛИЯ

Куликов

ИМЯ

Артём

ОТЧЕСТВО

Александрович

Дата рождения

13.08.2013

Муниципалитет

Знаменский

Сокращенное наименование образовательной организации (школы)

БОУ "Мулавская средняя школа"

**Сведения о педагогах-наставниках**

1. Фамилия

Чередова

Имя

Людмила

Отчество

Васильевна

Сокращенное наименование образовательной организации (школы)

2. Фамилия

Чередова

Имя

Людмила

Отчество

Васильевна

Сокращенное наименование образовательной организации (школы)

Личная подпись участника

Куликов

Все поля обязательны к заполнению!

458.

**ВСО. III**

ИСТОРИЯ  
ВСЕРОССИЙСКАЯ  
ОЛИМПИАДА  
ШКОЛЬНИКОВ

ВСЕРОССИЙСКАЯ ОЛИМПИАДА ШКОЛЬНИКОВ 2024/2025 гг.  
ШКОЛЬНЫЙ ЭТАП

ИСТОРИЯ  
5 КЛАСС

Шифр участника 5001

**ЗАДАНИЯ ДЛЯ ОБУЧАЮЩИХСЯ**  
Время выполнения заданий – 45 минут  
Максимальное количество баллов – 100 баллов

Задание 1. Максимальный балл за задание – 8.

Соотнесите периоды древнейшей истории и их приблизительную датировку.

Запишите буквы в таблицу, под которой он указан.

Приблизительная датировка	Период древнейшей истории
1 Полтора миллиона лет назад	А) появление первых стоянок древнейших людей на территории современной России
2 Полмиллиона лет назад	Б) начало использования древнейшими людьми огня
3 Сто тысяч лет назад	В) появление первых людей современного типа
4 Сорок тысяч лет назад	Г) начало последнего ледникового периода

Ответ:

1	2	3	4
Б	А	Г	В

85

Задание 2. Максимальный балл за задание – 15.

По какому принципу образованы ряды?

1. Шерстистый носорог, мамонт, пещерный медведь *только животных. не так. сейчас*
2. Земледелие, скотоводство, ремесло *занимания людей. не так. скотоводство*
3. Духи, идолы, молитвы *идолы, молитвы, духи -*
4. Анубис, Осирис, Гор *Гор, Анубис, Осирис. Боги Египта +*
5. Дубина, каменное рубило, палка-копалка *каменное рубило, дубина, палка-копалка. +*

95.

Задание 3. Максимальный балл за задание – 6.

На контурной карте Египта:

1. Напишите названия морей, омывающих Египет. *Черное море -*
2. Напишите название главной реки Египта. *Нил +*
3. Напишите, как называется материк, на котором расположен Египет. *Африка +*

Шифр участника 5001



48

Задание 4. Максимальный балл за задание – 8.

Установи соответствие между понятиями и их определениями.

Понятия	Определения понятий
1 Папирус	А) Сплав меди и олова
2 Бронза	Б) Усыпальница царей Египта и членов их семей
3 Шадуф	В) Песчий материал
4 Пирамида	Г) Приспособление для полива садов и огородов

Ответ:

1	2	3	4
В -	А +	Б -	Г +

48

Задание 5. Максимальный балл за задание – 8.

1. Отметьте на «линии времени» 753 г. до н.э., 73 г. до н.э., 490 г. до н.э., 1147 г. н.э., 476 г. н.э., 1945 г. н.э.?

1147 г. н.э.

! 2024

До нашей эры

Наша эра



Шифр участника 5001

1. Древнейший гроб.
2. Бог, хранитель мертвых с головой шакала.
3. Учёный, открывший гробницу Тутанхамона.
4. Правитель Египта.
5. Государство в Северо-Восточной Африке.
6. Фараон, правивший всего 6 лет, но известный всему миру.
7. Тело умершего, пропитанное смолой и обмотанное бинтами.
8. Место нахождения гроба фараона.
9. Учёные, производящие раскопки.
10. Амулет, обозначающий жизнь, спрятанный между слоями полотен фараона Тутанхамона.

Задание 7. *Максимальный балл за задание – 10.*

Соотнесите имена египетских богов и их характеристики.

Характеристика египетского бога	Египетский бог
1 Богиня истины, справедливости и гармонии.	А) Амон
2 Покровитель земледелия, садоводства, а также царь загробного мира.	Б) Осирис
3 Бог мудрости и знаний.	В) Маат
4 Бог солнечного диска	Г) Сет
5 Бог Солнца и покровитель города Фивы.	Д) Тот
6 Бог песчаных бурь, хаоса и войны.	Е) Гор
7 Богиня любви, плодородия и женской красоты.	Ж) Апис
8 Священный бык, сын богини неба Нут.	З) Анубис
9 Покровитель земных фараонов	И) Атон
10 Проводник в умерших в царство мёртвых	К) Бастет

Соответствующие буквы ответов внеси в таблицу.

Ответ:

1	2	3	4	5	6	7	8	9	10
А -	Е -	К -	И +	Д -	Ж -	В -	Г -	Б -	З +

Шифр участника 5001

Задание 8. Максимальный балл за задание – 8.

Прочитайте текст и вставьте пропущенные слова.

Завоевательные походы египетских фараонов стали особенно успешны после появления важного изобретения в области военного снаряжения – запряжённой конями А) Колесница позволившей воинам быстро передвигаться на большие расстояния и внезапно атаковать противника. Ещё в эпоху Древнего царства Египет стремился покорить богатую золотыми рудниками Б) Нубия на юге. В эпоху Нового царства, помимо этой области, египетские войска покорили В) \_\_\_\_\_ на западе, богатый медными рудниками Г) \_\_\_\_\_ полуостров, а затем, вторглись в Азию, завоевали Д) \_\_\_\_\_, Е) \_\_\_\_\_ и Ж) \_\_\_\_\_, дойдя до реки З) \_\_\_\_\_.

Ответ:

А) <u>Колесница</u> +	Д)
Б) <u>Нубия</u> +	Е)
В)	Ж)
Г)	З)

Задание 9. Максимальный балл за задание – 12.

Расположите ремесленные изделия в хронологическом порядке их появления.

- А. глиняная посуда
- Б. литые медные орудия труда
- В. деревянная посуда
- Г. кованые медные орудия труда
- Д. бронзовые орудия труда
- Е. золотые и серебряные украшения




Ответ:

1	2	3	4	5	6
<u>В</u> +	<u>А</u> +	<u>Б</u> -	<u>Г</u> -	<u>Д</u> -	<u>Е</u> -



Задание 10. Максимальный балл за задание – 15.

На фотографиях изображены памятники архитектуры и скульптуры города Омска. Определите их название. Напишите год возведения каждого памятка.

Шифр участника 5001

<p>А) </p>	<p>Название:</p> <p>Год возведения:</p>
<p>Б) </p>	<p>Название:</p> <p>Год возведения:</p>
<p>В) </p>	<p>Название: <i>Драматический театр + 16</i></p> <p>Год возведения:</p>

Шифр участника 5001

Г) 	Название: <i>Мобилка</i> +  Год возведения: <i>15</i>
Д) 	Название: <i>Успенский собор</i> +  Год возведения: <i>15</i>

*35*